

# SUPERVISIÓN DE LA INTERVENCIÓN EN INCENDIOS FORESTALES Y QUEMAS PRESCRITAS

## TRABAJO UNIDAD 6.

### CARTOGRAFÍA BÁSICA

### GOODWILL ESTAL DARIES



## ÍNDICE

1. ¿Qué información podemos extraer de un mapa híbrido?
2. Observa la comarca de la Canal de Navarrés, en la zona del sur de la provincia de València. Explica los posibles efectos que tendría un hipotético incendio forestal en dicha comarca. Fíjate en el relieve y las formaciones. Adjunta una captura de pantalla.
3. Identifica el relieve la zona de la Murta, el Montgó, el Benicadell y la Isla Mallorca. Haz una captura de pantalla con la orientación.
4. Selecciona la capa de incendios forestales y busca los grandes incendios sucedidos en 2012. Indica cuáles son (3). Adjunta imagen.
5. Selecciona la capa de incendios forestales y busca los grandes incendios sucedidos en 1994. Anota algunos de ellos. Adjunta imagen.
6. Localiza el parque de bomberos forestales de Castelló de Rugat y anota cuál es su superficie. Adjunta imagen. Adjunta también la información catastral de dicho parque.
7. Localiza la sierra Corbera, y haz una captura de la zona de la Murta. Adjunta una imagen dónde identifiques el relieve (curvas de nivel, divisoria de aguas, vaguadas y barrancos, etc.). Realiza un perfil de pendientes con el visor.

1. **¿Qué información podemos extraer de un mapa híbrido?**

En un mapa híbrido aparece la imagen de satélite intercalada con información de las principales carreteras, nombres de municipios, ríos y toponimia de algunos lugares de interés.



2. **Observa la comarca de la Canal de Navarrés, en la zona del sur de la provincia de València. Explica los posibles efectos que tendría un hipotético incendio forestal en dicha comarca. Fíjate en el relieve y las formaciones. Adjunta una captura de pantalla.**

La comarca de la Canal de Navarrés se caracteriza por un paisaje montañoso con multitud de barrancos. El modelo de combustible que predomina es el de matorral y matorral bajo arbolado. En la zona Oeste y Nord-oeste de la comarca, las vías de comunicación son escasas.

Todos estos factores propician que en caso de producirse un incendio este sea muy virulento, con velocidades de propagación muy elevadas debido a la naturaleza del combustible y favorecido por el efecto chimenea que se genera en los barrancos. Debido a la escasez de vías de acceso, sobre todo en la parte oeste, la llegada de los medios de extinción se verá retrasada, además, en caso de afectar a alguno de los municipios de esta comarca podría ocasionar el atrapamiento de la población por lo que sería interesante valorar con antelación la evacuación de estos.

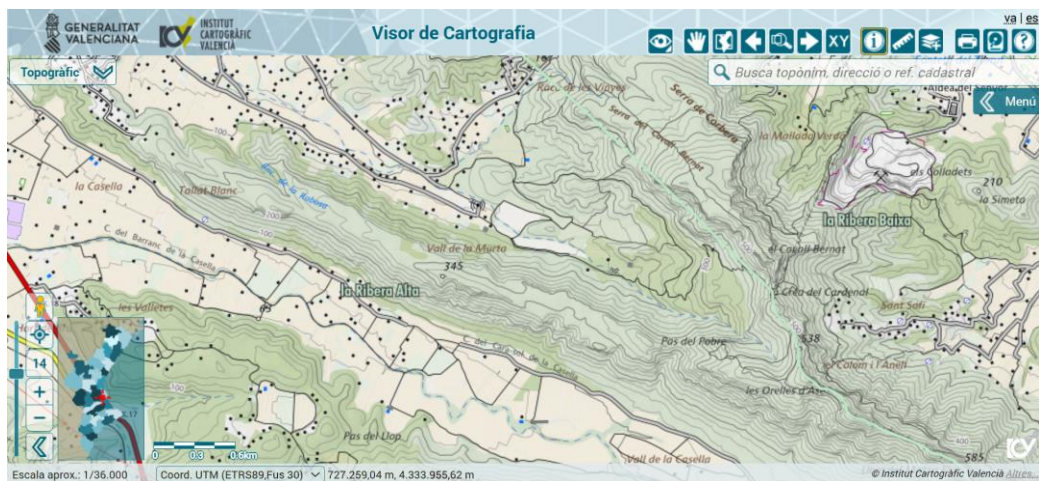






3. Identifica el relieve la zona de la Murta, el Montgó, el Benicadell y la Isla Mallorca. Haz una captura de pantalla con la orientación.

a. La Murta:



b. El Montgó:



c. El Benicadell:



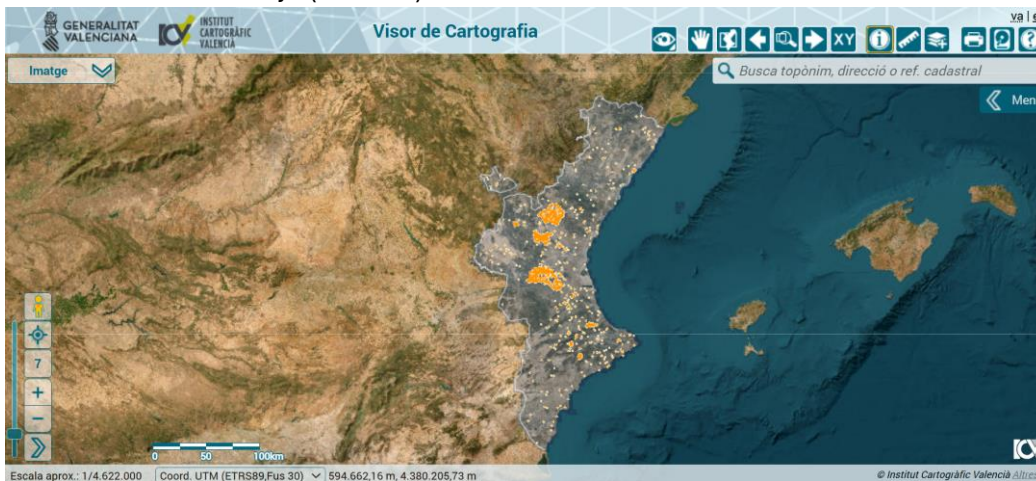


d. Isla Mallorca:



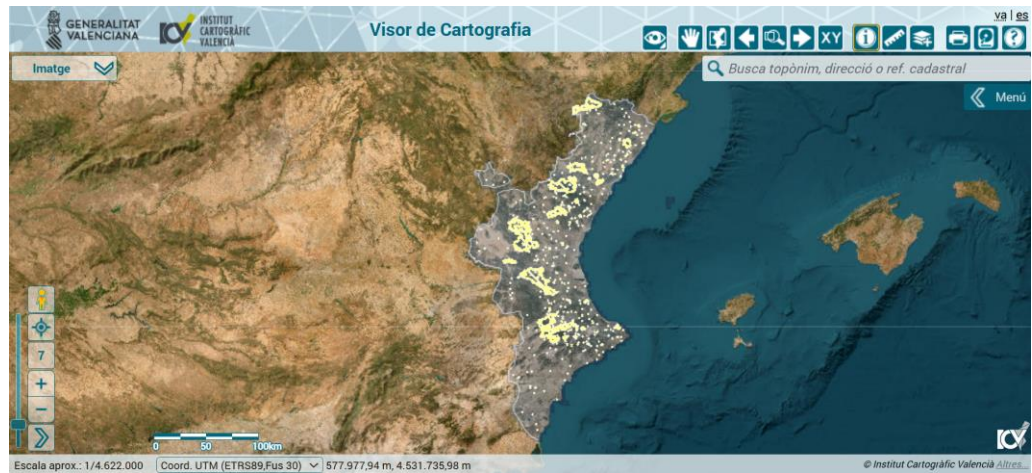
4. Selecciona la capa de incendios forestales y busca los grandes incendios sucedidos en 2012. Indica cuáles son (3). Adjunta imagen.

- Reguerico del Baile (Cortes de Pallás): 28/06/2012
- Las Covatillas (Andilla): 29/06/2012
- Cuerda del Pantojo (Chulilla): 23/09/2012



5. Selecciona la capa de incendios forestales y busca los grandes incendios sucedidos en 1994. Anota algunos de ellos. Adjunta imagen.

- Requena (Plana Utiel-Requena): 5/07/1994
- Millares (Canal de Navarres): 4/07/1994
- Fontanars dels Alforins (Vall d'Albaida): 4/07/1994
- Espadilla (Alt millars): 2/07/1994



6. Localiza el parque de bomberos forestales de Castelló de Rugat y anota cuál es su superficie. Adjunta imagen. Adjunta también la información catastral de dicho parque.



2476 m<sup>2</sup> de parcela y 790 m<sup>2</sup> construidos.



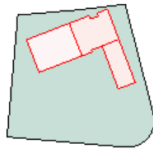




#### DATOS DESCRIPTIVOS DEL INMUEBLE

Referencia catastral	6558208YJ2065N0001SS  
Localización	PL ZONA EIXAMPLE DEL MOLÍ 6(S) 46841 CASTELLO DE RUGAT (VALENCIA)
Clase	Urbano
Uso principal	Edif. Singular
Superficie construida 	790 m <sup>2</sup>
Año construcción	2010

#### PARCELA CATASTRAL



Parcela construida sin división horizontal

Localización	PL ZONA EIXAMPLE DEL MOLÍ 6(S) CASTELLO DE RUGAT (VALENCIA)
Superficie gráfica	2.476 m <sup>2</sup>

- Localiza la sierra Corbera, y haz una captura de la zona de la Murta. Adjunta una imagen dónde identifiques el relieve (curvas de nivel, divisoria de aguas, vaguadas y barrancos, etc.). Realiza un perfil de pendientes con el visor.

